

Name:	
Klasse/Jahrgang:	



Standardisierte kompetenzorientierte  
schriftliche Reife- und Diplomprüfung

BHS

20. September 2018

# Angewandte Mathematik

HAK



# Hinweise zur Aufgabenbearbeitung

Liebe Kandidatin! Lieber Kandidat!

Das vorliegende Aufgabenheft enthält 5 Teil-A-Aufgaben und 3 Teil-B-Aufgaben mit jeweils unterschiedlich vielen Teilaufgaben. Die Teilaufgaben sind unabhängig voneinander bearbeitbar. Ihnen stehen insgesamt 270 Minuten an reiner Arbeitszeit für Teil A und Teil B zur Verfügung.

Verwenden Sie für die Bearbeitung einen nicht radierbaren, blau oder schwarz schreibenden Stift. Bei Konstruktionsaufgaben ist auch die Verwendung eines Bleistifts möglich.

Verwenden Sie für die Bearbeitung ausschließlich das Aufgabenheft und die Ihnen zur Verfügung gestellten Antwortblätter. Schreiben Sie Ihren Namen in das dafür vorgesehene Feld auf der ersten Seite des Aufgabenheftes und auf jedes Antwortblatt. Geben Sie bei der Beantwortung jeder Teilaufgabe deren Bezeichnung (z. B.: 3c oder 3d1) an.

In die Beurteilung wird alles einbezogen, was nicht durchgestrichen ist. Streichen Sie Notizen durch.

Die Verwendung von durch die Schulbuchaktion approbierten Formelheften bzw. von der Formelsammlung für die SRDP in Angewandter Mathematik und von elektronischen Hilfsmitteln (z. B. grafikfähiger Taschenrechner oder andere entsprechende Technologie) ist erlaubt, sofern keine Kommunikationsmöglichkeit (z. B. via Internet, Intranet, Bluetooth, Mobilfunknetzwerke etc.) gegeben ist und keine Eigendaten in die elektronischen Hilfsmittel implementiert sind. Handbücher zu den elektronischen Hilfsmitteln sind in der Original-Druckversion oder in im elektronischen Hilfsmittel integrierter Form zulässig.

Abzugeben sind das Aufgabenheft und alle von Ihnen verwendeten Antwortblätter.

## Handreichung für die Bearbeitung

- Jede Berechnung ist mit einem nachvollziehbaren Rechenansatz und einer nachvollziehbaren Dokumentation des Technologieeinsatzes (die verwendeten Ausgangsparameter und die verwendete Technologiefunktion müssen angegeben werden) durchzuführen.
- Selbst gewählte Variablen sind zu erklären und gegebenenfalls mit Einheiten zu benennen.
- Ergebnisse sind eindeutig hervorzuheben.
- Ergebnisse sind mit entsprechenden Einheiten anzugeben, wenn dies in der Handlungsanweisung explizit gefordert wird.
- Werden Diagramme oder Skizzen als Lösungen erstellt, so sind die Achsen zu skalieren und zu beschriften.
- Werden geometrische Skizzen erstellt, so sind die lösungsrelevanten Teile zu beschriften.
- Vermeiden Sie frühzeitiges Runden.
- Legen Sie allfällige Computerausdrucke der Lösung mit Ihrem Namen beschriftet bei.
- Wird eine Aufgabe mehrfach gerechnet, so sind alle Lösungswege bis auf einen zu streichen.

Es gilt folgender Beurteilungsschlüssel:

44–49 Punkte	Sehr gut
39–43 Punkte	Gut
33–38 Punkte	Befriedigend
23–32 Punkte	Genügend
0–22 Punkte	Nicht genügend

# Erläuterung der Antwortformate

Die Teilaufgaben können folgende Antwortformate beinhalten: *offenes Antwortformat*, *halboffenes Antwortformat*, *Konstruktionsformat*, *Zuordnungsformat* und *Multiple-Choice-Format in der Variante „1 aus 5“*.

**Offenes Antwortformat:** Beim offenen Antwortformat kann die Bearbeitung der Aufgaben auf unterschiedliche Weise erfolgen, z. B. durch eine Berechnung oder durch eine Erstellung einer Grafik.

**Halboffenes Antwortformat:** Beim halboffenen Antwortformat soll die korrekte Antwort in eine vorgegebene Formel, Funktion etc. eingesetzt werden.

## Beispiel:

Gegeben ist ein Rechteck mit den Seitenlängen  $a$  und  $b$ .

– Erstellen Sie eine Formel zur Berechnung des Flächeninhalts  $A$  dieses Rechtecks.

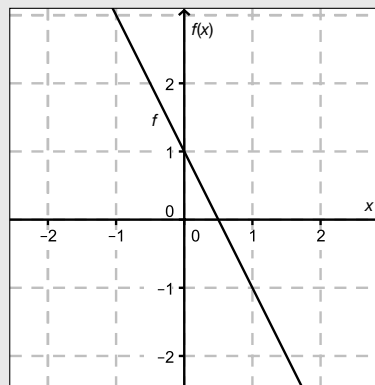
$$A = \underline{a \cdot b}$$

**Konstruktionsformat:** Ein Diagramm, eine Grafik oder eine Abbildung ist vorgegeben. Die Aufgabenstellung erfordert die Ergänzung von Punkten und/oder Geraden und/oder Kurven und/oder Skalierungen bzw. Achsenbeschriftungen im Diagramm, in der Grafik bzw. in der Abbildung.

## Beispiel:

Gegeben ist eine lineare Funktion  $f$  mit  $f(x) = k \cdot x + d$ .

– Zeichnen Sie den Graphen einer linearen Funktion mit  $k = -2$  und  $d > 0$  im nachstehenden Koordinatensystem ein.



**Zuordnungsformat:** Dieses Antwortformat ist durch mehrere Aussagen (bzw. Tabellen oder Abbildungen) gekennzeichnet, denen mehrere Antwortmöglichkeiten gegenüberstehen. Bearbeiten Sie Aufgaben dieses Formats korrekt, indem Sie die richtigen Antwortmöglichkeiten durch Eintragen der **entsprechenden Buchstaben** den jeweils zutreffenden Aussagen zuordnen.

Beispiel:

– Ordnen Sie den zwei Gleichungen jeweils die entsprechende Bezeichnung (aus A bis D) zu.

$1 + 1 = 2$	A
$2 \cdot 2 = 4$	C

A	Addition
B	Division
C	Multiplikation
D	Subtraktion

**Multiple-Choice-Format in der Variante „1 aus 5“:** Dieses Antwortformat ist durch einen Fragenstamm und fünf Antwortmöglichkeiten gekennzeichnet, wobei **eine Antwortmöglichkeit** auszuwählen ist. Bearbeiten Sie Aufgaben dieses Formats korrekt, indem Sie die zutreffende Antwortmöglichkeit ankreuzen.

Beispiel:

– Kreuzen Sie die zutreffende Gleichung an.

$1 + 1 = 1$	<input type="checkbox"/>
$2 + 2 = 4$	<input checked="" type="checkbox"/>
$3 + 3 = 3$	<input type="checkbox"/>
$4 + 5 = 8$	<input type="checkbox"/>
$5 + 5 = 5$	<input type="checkbox"/>

**So ändern Sie Ihre Antwort bei Aufgaben zum Ankreuzen:**

- Übermalen Sie das Kästchen mit der nicht mehr gültigen Antwort.
- Kreuzen Sie dann das gewünschte Kästchen an.

$1 + 1 = 3$	<input type="checkbox"/>
$2 + 2 = 4$	<input checked="" type="checkbox"/>
$3 + 3 = 5$	<input type="checkbox"/>
$4 + 4 = 4$	<input type="checkbox"/>
$5 + 5 = 9$	<input checked="" type="checkbox"/>

Hier wurde zuerst die Antwort „ $5 + 5 = 9$ “ gewählt und dann auf „ $2 + 2 = 4$ “ geändert.

**So wählen Sie eine bereits übermalte Antwort:**

- Übermalen Sie das Kästchen mit der nicht mehr gültigen Antwort.
- Kreisen Sie das gewünschte übermalte Kästchen ein.

$1 + 1 = 3$	<input type="checkbox"/>
$2 + 2 = 4$	<input checked="" type="checkbox"/>
$3 + 3 = 5$	<input type="checkbox"/>
$4 + 4 = 4$	<input checked="" type="checkbox"/>
$5 + 5 = 9$	<input type="checkbox"/>

Hier wurde zuerst die Antwort „ $2 + 2 = 4$ “ übermalt und dann wieder gewählt.

Viel Erfolg!

# Aufgabe 1

## Pauschalreisen

Ein Reisebüro vermittelt Plätze für Pauschalreisen nach Kroatien.

- a) Es wird angenommen, dass die vermittelten Plätze unabhängig voneinander mit einer Wahrscheinlichkeit von 5 % nicht in Anspruch genommen werden. Alle 100 zur Verfügung stehenden Plätze werden vermittelt.
- 1) Berechnen Sie die Wahrscheinlichkeit, dass höchstens 4 der vermittelten Plätze nicht in Anspruch genommen werden. [1 Punkt]
  - 2) Beschreiben Sie ein mögliches Ereignis  $E$  im gegebenen Sachzusammenhang, dessen Wahrscheinlichkeit folgendermaßen berechnet werden kann:  
$$\binom{100}{5} \cdot 0,05^5 \cdot 0,95^{95}$$
 [1 Punkt]
- b) Es wird angenommen, dass die vermittelten Plätze unabhängig voneinander mit einer Wahrscheinlichkeit von 5 % nicht in Anspruch genommen werden. Es werden 102 Plätze vermittelt, obwohl nur 100 Plätze zur Verfügung stehen.
- 1) Berechnen Sie die Wahrscheinlichkeit, dass die Anzahl der Plätze unter diesen Voraussetzungen nicht ausreicht. [1 Punkt]
- c) Pro Reiseternin stehen jeweils 100 Plätze zur Verfügung.  
Für jeden gebuchten Platz erzielt das Reisebüro einen Gewinn von  $a$  Euro.  
Für jeden nicht gebuchten Platz macht das Reisebüro einen Verlust von 120 Euro.  
Den Gesamtgewinn erhält man, indem man vom Gewinn für alle gebuchten Plätze den Verlust für alle nicht gebuchten Plätze abzieht.
- Bei einem bestimmten Reiseternin werden nur  $x$  Plätze gebucht. Der Gesamtgewinn für diesen Termin beträgt  $G$  Euro.
- 1) Erstellen Sie eine Formel zur Berechnung von  $x$  aus  $a$  und  $G$ .  
$$x = \underline{\hspace{10em}}$$
 [1 Punkt]

# Aufgabe 2

## Kugelstoßen

Kugelstoßen ist eine Disziplin bei den Olympischen Sommerspielen.

Eine Metallkugel muss so weit wie möglich aus einem Kreis in einen vorgegebenen Aufschlagbereich gestoßen werden.

a) Im Jahr 1948 wurde bei den Männern ein neuer Weltrekord mit der Weite 17,68 m aufgestellt.

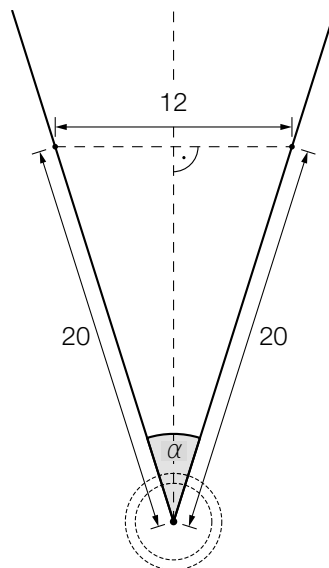
Eine Faustregel besagt, dass sich seit 1948 der Weltrekord bei den Männern alle 2,5 Jahre um 34 cm verbessert hat. Die Weltrekordweite (in Metern) soll gemäß dieser Faustregel in Abhängigkeit von der Zeit  $t$  (in Jahren) durch eine lineare Funktion  $f$  beschrieben werden.

1) Erstellen Sie eine Gleichung der Funktion  $f$ . Wählen Sie  $t = 0$  für das Jahr 1948. [1 Punkt]

Im Jahr 1988 betrug der Weltrekord bei den Männern 23,06 m.

2) Ermitteln Sie für das Jahr 1988 die Abweichung des Funktionswerts von  $f$  von dieser Weltrekordweite. [1 Punkt]

b) Der Aufschlagbereich ist in der nachstehenden Abbildung in der Ansicht von oben dargestellt (alle Angaben in Metern).



1) Berechnen Sie den in der obigen Abbildung markierten Winkel  $\alpha$ . [1 Punkt]

2) Markieren Sie in der obigen Abbildung diejenige Strecke, deren Länge durch den folgenden Ausdruck berechnet werden kann:

$$\frac{6}{\tan\left(\frac{\alpha}{2}\right)}$$

[1 Punkt]

- c) Die Bahnkurve einer gestoßenen Kugel lässt sich näherungsweise durch den Graphen der quadratischen Funktion  $h$  beschreiben:

$$h(x) = -0,05 \cdot x^2 + 0,75 \cdot x + 2 \quad \text{mit } x \geq 0$$

$x$  ... horizontale Entfernung der Kugel von der Abstoßstelle in m

$h(x)$  ... Höhe der Kugel über dem Boden bei der horizontalen Entfernung  $x$  in m

- 1) Geben Sie an, in welcher Höhe die Kugel abgestoßen wird. *[1 Punkt]*
- 2) Ermitteln Sie, in welcher horizontalen Entfernung von der Abstoßstelle die Kugel auf dem Boden aufschlägt. *[1 Punkt]*

- d) Für die bei den Männern verwendeten Kugeln gelten folgende Vorgaben:

- Die Masse beträgt 7 257 g.
- Der Durchmesser der Kugel liegt zwischen 11 cm und 13 cm.

Eine Messing-Eisen-Legierung hat eine Dichte von  $8,2 \text{ g/cm}^3$ .

Die Masse  $m$  ist das Produkt aus Volumen  $V$  und Dichte  $\rho$ , also  $m = V \cdot \rho$ .

- 1) Überprüfen Sie nachweislich, ob man aus dieser Messing-Eisen-Legierung eine Kugel herstellen kann, die diese Vorgaben erfüllt. *[1 Punkt]*

# Aufgabe 3

## Impfen und Auffrischen

Mithilfe der Konzentration von Antikörpern im Blut wird bestimmt, ob nach einer Impfung ausreichender Impfschutz besteht. Diese Konzentration wird oft als Antikörperwert bezeichnet und in „Internationalen Einheiten pro Liter“ (IE/L) angegeben.

- a) Bei Anna wurde unmittelbar nach einer Impfung ein Antikörperwert von 110 IE/L gemessen. Der Antikörperwert sinkt kontinuierlich und nimmt bei Anna pro Jahr um 20 % in Bezug auf das jeweils vorhergehende Jahr ab.

Der Antikörperwert in Annas Blut (in IE/L) soll in Abhängigkeit von der Zeit  $t$  (in Jahren) durch eine Funktion  $A$  beschrieben werden.

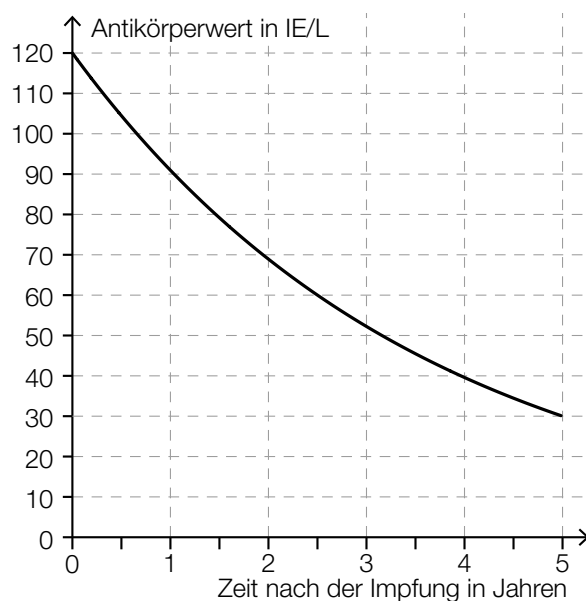
- 1) Erstellen Sie eine Gleichung der Funktion  $A$ . Wählen Sie  $t = 0$  für den Zeitpunkt der Messung. *[1 Punkt]*

Ab einem Antikörperwert von 10 IE/L ist der Impfschutz nicht mehr gegeben.

- 2) Berechnen Sie, nach welcher Zeit der Impfschutz bei Anna nicht mehr gegeben ist. *[1 Punkt]*



- b) Die nachstehende Abbildung zeigt näherungsweise den zeitlichen Verlauf des Antikörperwerts von Bernhard nach einer Impfung.



- 1) Lesen Sie die Halbwertszeit  $T_{1/2}$  ab.

$T_{1/2} =$  \_\_\_\_\_ Jahre

[1 Punkt]

Bei Sandra beträgt der Antikörperwert unmittelbar nach der Impfung 80 IE/L. Ihr Antikörperwert sinkt exponentiell mit derselben Halbwertszeit wie jener von Bernhard.

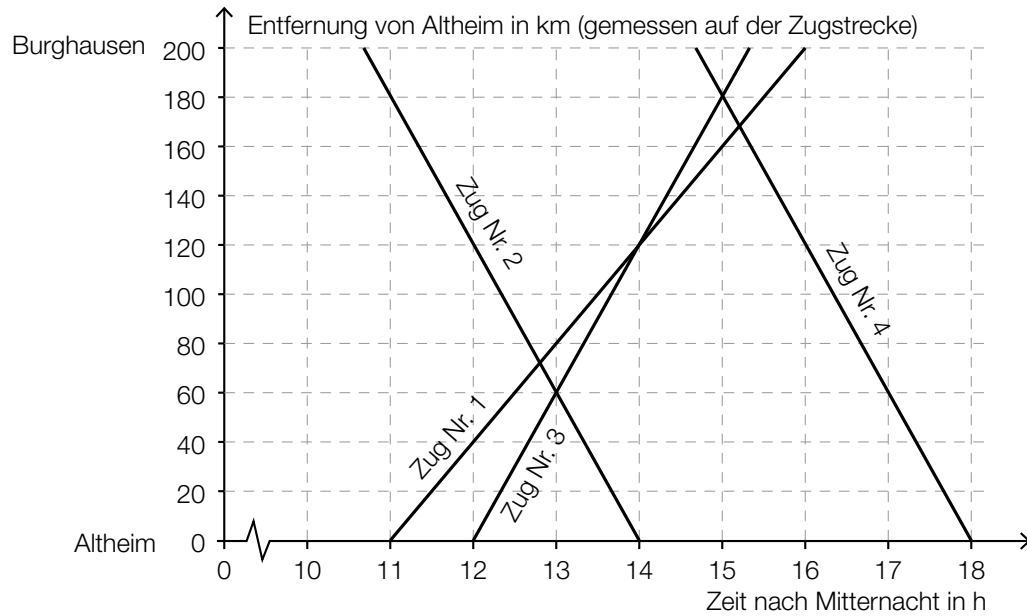
- 2) Zeichnen Sie in der obigen Abbildung den zeitlichen Verlauf von Sandras Antikörperwert im Zeitintervall  $[0; 5]$  ein.

[1 Punkt]

# Aufgabe 4

## Eisenbahn

In der nachstehenden Abbildung ist ein sogenannter Bildfahrplan für Züge zwischen Altheim und Burghausen dargestellt. Die Züge fahren dabei – vereinfacht betrachtet – mit konstanter Geschwindigkeit.



- a) Zug Nr. 3 fährt um 12:00 Uhr in Altheim ab.  
 Zug Nr. 4 fährt um 14:40 Uhr in Burghausen ab.  
 Auf der Fahrt zu ihren Zielbahnhöfen begegnen die beiden Züge einander.
- 1) Lesen Sie aus dem obigen Bildfahrplan ab, wann und wie weit von Burghausen entfernt die beiden Züge einander begegnen. [1 Punkt]
- b) 1) Argumentieren Sie, dass die Züge Nr. 2 und Nr. 4 mit der gleichen Geschwindigkeit fahren. [1 Punkt]
- c) Die Fahrt eines Zuges Nr. 5 soll im Bildfahrplan durch einen Ausschnitt des Graphen der Funktion  $s$  beschrieben werden.
- $$s(t) = -80 \cdot t + 1160$$
- $t$  ... Zeit nach Mitternacht in h  
 $s(t)$  ... Entfernung von Altheim zur Zeit  $t$  in km
- 1) Bestimmen Sie die Uhrzeit, zu der Zug Nr. 5 in Burghausen abfährt. [1 Punkt]
- 2) Zeichnen Sie im obigen Bildfahrplan den Funktionsgraphen für  $s$  zwischen Altheim und Burghausen ein. [1 Punkt]

- d) Eine Eisenbahnstrecke hat eine Länge von 200 km. Nach einer Sanierung der Gleise können die Züge mit einer um 10 km/h höheren Geschwindigkeit fahren. Die Fahrzeit wird dadurch um eine halbe Stunde vermindert.  
Zur Verdeutlichung sind die Angaben in der nachstehenden Tabelle dargestellt.  
 $t$  ist dabei die Fahrzeit vor der Sanierung in Stunden.

	Streckenlänge in km	Geschwindigkeit in km/h	Fahrzeit in h
nach der Sanierung	200	$\left(\frac{200}{t} + 10\right)$	$\left(t - \frac{1}{2}\right)$

- 1) Berechnen Sie  $t$ .

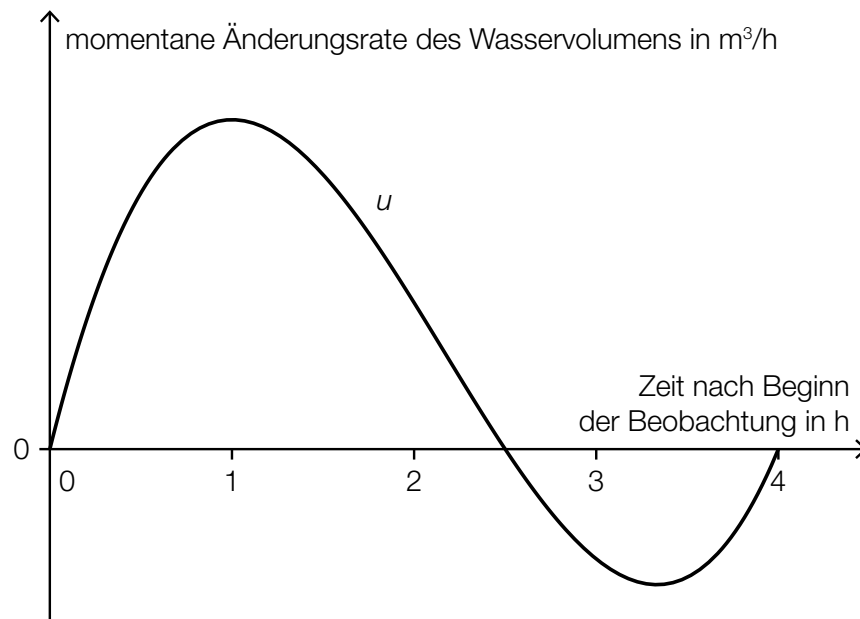
[1 Punkt]

# Aufgabe 5

## Stausee

- a) Das Wasservolumen in einem Stausee ändert sich aufgrund von verschiedenen Einflüssen, wie z. B. Niederschlägen, Zuflüssen und Wasserentnahmen.

Zu Beginn einer Beobachtung beträgt das Wasservolumen im Stausee  $1,5 \cdot 10^8 \text{ m}^3$ . Die momentane Änderungsrate des Wasservolumens kann im Zeitintervall  $[0; 4]$  näherungsweise durch eine Funktion  $u$  beschrieben werden, deren Graph in der nachstehenden Abbildung dargestellt ist.



- 1) Interpretieren Sie unter Angabe der entsprechenden Einheit, was mit dem folgenden Ausdruck im gegebenen Sachzusammenhang berechnet wird:  
$$1,5 \cdot 10^8 + \int_0^4 u(t) dt$$
*[1 Punkt]*
- 2) Argumentieren Sie mithilfe des Funktionsgraphen, dass das Wasservolumen im Stausee im Zeitintervall  $[1; 2]$  zunimmt.  
*[1 Punkt]*

- b) Der zeitliche Verlauf des Wasserstands eines Stausees kann für einen bestimmten Zeitraum näherungsweise durch die Funktion  $h$  beschrieben werden:

$$h(t) = -6 \cdot 10^{-6} \cdot t^3 + 0,001 \cdot t^2 + 0,005 \cdot t + 5 \quad \text{mit} \quad 0 \leq t \leq 150$$

$t$  ... Zeit in h

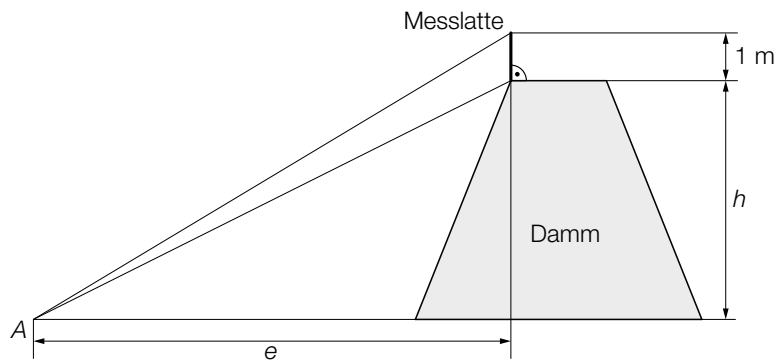
$h(t)$  ... Wasserstand zur Zeit  $t$  in m

Ein ufernaher Parkplatz wird gesperrt, solange der Wasserstand 9 m oder höher ist.

- 1) Berechnen Sie die Dauer der Sperre.

[2 Punkte]

- c) Für den Hochwasserschutz wurde an einem Ufer ein Damm aufgeschüttet. Die Höhe des Damms wird mithilfe einer 1 m langen Messlatte ermittelt. Dazu werden von einem Punkt A aus die Enden der Messlatte anvisiert und die Höhenwinkel  $\alpha = 40,0^\circ$  und  $\beta = 33,7^\circ$  gemessen (siehe nachstehende nicht maßstabgetreue Skizze).



- 1) Beschriften Sie in der obigen Skizze die Winkel  $\alpha$  und  $\beta$ .

[1 Punkt]

Für die Berechnung der Dammhöhe  $h$  werden folgende Formeln verwendet:

$$\tan(\alpha) = \frac{h + 1}{e}$$

$$\tan(\beta) = \frac{h}{e}$$

- 2) Berechnen Sie die Dammhöhe  $h$ .

[1 Punkt]

## Aufgabe 6 (Teil B)

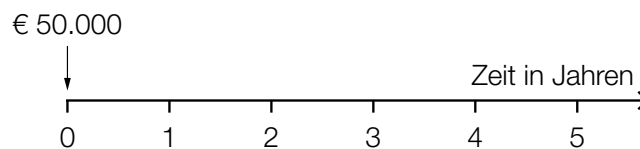
### Erbschaft

- a) Armin erhält ein Erbe in Höhe von € 50.000, das in Form von 3 Beträgen in den nächsten 5 Jahren ausbezahlt wird.

Die Höhe der Auszahlungen  $Z$  kann mit der nachstehenden Gleichung berechnet werden:

$$50\,000 = \frac{20\,000}{1,03} + \frac{Z}{1,03^3} + \frac{Z}{1,03^5}$$

- 1) Lesen Sie den zugehörigen Jahreszinssatz ab. [1 Punkt]
- 2) Veranschaulichen Sie alle in der Gleichung vorkommenden Auszahlungen auf der nachstehenden Zeitachse. [1 Punkt]



- 3) Berechnen Sie die Höhe der Auszahlungen  $Z$ . [1 Punkt]
- b) Jutta hat € 50.000 geerbt. Diesen Betrag legt sie mit einer Verzinsung von 3 % p. a. an.

In den nächsten 5 Jahren will sie nun jeweils am Ende jedes Monats einen gleich hohen Betrag abheben, sodass nach diesen 5 Jahren vom angelegten Geld ein Betrag in Höhe von € 20.000 vorhanden ist.

Jutta überlegt, dass sie monatlich rund  $\frac{€ 50.000 - € 20.000}{60} = € 500$  abheben kann.

- 1) Begründen Sie, warum die tatsächlichen Monatsraten größer als € 500 sind. [1 Punkt]
- 2) Berechnen Sie den zugehörigen äquivalenten Monatszinssatz. [1 Punkt]
- 3) Berechnen Sie die Höhe dieser tatsächlichen Monatsraten. [1 Punkt]

c) Auf den unten stehenden Zeitachsen sind Erbschaftsauszahlungen dargestellt.

1) Kreuzen Sie diejenige Auszahlungsvariante an, die bei einem positiven Zinssatz den größten Barwert hat. [1 aus 5] [1 Punkt]

<p>Zeit in Jahren</p> <p>€ 5.000 € 5.000 € 5.000 € 5.000 € 5.000 € 5.000 € 5.000 € 5.000</p>	<input type="checkbox"/>
<p>Zeit in Jahren</p> <p>€ 10.000 € 10.000 € 10.000 € 10.000</p>	<input type="checkbox"/>
<p>Zeit in Jahren</p> <p>€ 20.000 € 20.000</p>	<input type="checkbox"/>
<p>Zeit in Jahren</p> <p>€ 20.000 € 20.000</p>	<input type="checkbox"/>
<p>Zeit in Jahren</p> <p>€ 40.000</p>	<input type="checkbox"/>

## Aufgabe 7 (Teil B)

### Kaffeeautomat

Der Elternverein einer Schule entschließt sich, einen Kaffeeautomaten für Schüler/innen und Lehrer/innen anzuschaffen.

a) Die Kosten für den Kaffeeautomaten betragen € 5.500.

Der Elternverein erhält folgendes Leasingangebot:

- Anzahlung: € 1.000 bei Vertragsabschluss
- 48 Monatsraten zu je € 100
- Die Ratenzahlungen beginnen einen Monat nach Vertragsabschluss.
- Der Restwert in Höhe von € 900 ist gleichzeitig mit der letzten Rate zu bezahlen.

1) Berechnen Sie den effektiven Jahreszinssatz für dieses Angebot.

*[2 Punkte]*



- b) Der Elternverein zahlt die Kosten für den Kaffeeautomaten in Höhe von € 5.500 sofort und darf dafür die Einnahmen behalten.

Der Kassier des Elternvereins legt seiner Berechnung folgende Annahmen zugrunde:

- Er rechnet mit 150 Bechern Kaffee pro Tag für 40 Schulwochen zu je 5 Tagen.
- Wareneinsatz pro Becher Kaffee: 30 Cent
- Verkaufspreis pro Becher Kaffee: 45 Cent
- Wartungskosten: € 1.400 pro Jahr
- Nach 4 Jahren soll der Kaffeeautomat um € 900 verkauft werden.

- 1) Tragen Sie die Einnahmen, Ausgaben und Rückflüsse in die nachstehende Tabelle ein.

[1 Punkt]

Jahr	Einnahmen in Euro	Ausgaben in Euro	Rückflüsse in Euro
0			
1			
2			
3			
4			

Der Kassier nimmt einen kalkulatorischen Zinssatz von 1,8 % p. a. an.

- 2) Berechnen Sie den Kapitalwert.

[1 Punkt]

- c) An 80 von insgesamt 200 Schultagen hat Chiara Nachmittagsunterricht.

An Schultagen mit Nachmittagsunterricht trinkt sie mit einer Wahrscheinlichkeit von 90 % Kaffee, an Schultagen ohne Nachmittagsunterricht beträgt diese Wahrscheinlichkeit 20 %.

- 1) Erstellen Sie für diesen Sachverhalt ein mit den jeweiligen Wahrscheinlichkeiten beschriftetes Baumdiagramm.

[1 Punkt]

- 2) Beschreiben Sie ein mögliches Ereignis  $E$  im gegebenen Sachzusammenhang, dessen Wahrscheinlichkeit folgendermaßen berechnet wird:

$$P(E) = \frac{120}{200} \cdot 0,8 = 0,48$$

[1 Punkt]

- 3) Berechnen Sie die Wahrscheinlichkeit, dass Chiara heute Nachmittagsunterricht hat unter der Voraussetzung, dass sie heute Kaffee getrunken hat.

[1 Punkt]

## Aufgabe 8 (Teil B)

### Mixer

Ein Unternehmen stellt unterschiedliche Typen von Mixern her.

- a) Bei einem Stückpreis von € 65 können 2000 Stabmixer pro Jahr verkauft werden.  
Bei einem Verkauf von 2500 Stabmixern kann ein Erlös in Höhe von € 131.250 pro Jahr erzielt werden.

Der Erlös beim Verkauf der Stabmixer kann durch eine quadratische Funktion  $E$  beschrieben werden:

$$E(x) = a \cdot x^2 + b \cdot x + c$$

$x$  ... Anzahl der verkauften Stabmixer

$E(x)$  ... Erlös bei  $x$  verkauften Stabmixern in €

- 1) Begründen Sie, warum in der Gleichung der Erlösfunktion der Parameter  $c$  gleich null sein muss. [1 Punkt]
- 2) Erstellen Sie ein Gleichungssystem zur Berechnung der Koeffizienten  $a$  und  $b$  der Erlösfunktion. [1 Punkt]
- 3) Berechnen Sie die Koeffizienten  $a$  und  $b$ . [1 Punkt]
- 4) Berechnen Sie die Sättigungsmenge. [1 Punkt]

- b) Der Gewinn beim Verkauf der Handmixer kann durch die Funktion  $G$  beschrieben werden.

$$G(x) = -0,1 \cdot x^3 - 1,9 \cdot x^2 + 200 \cdot x - 940$$

$x$  ... Absatzmenge in ME

$G(x)$  ... Gewinn bei der Absatzmenge  $x$  in GE

- 1) Berechnen Sie die Gewinn Grenzen. [1 Punkt]
- 2) Ermitteln Sie den maximalen Gewinn. [1 Punkt]

Durch Veränderungen im Unternehmen können die Fixkosten um 200 GE gesenkt werden.

- 3) Erstellen Sie eine Gleichung der neuen Gewinnfunktion  $G_1$ . [1 Punkt]

- c) Die Kosten bei der Produktion von Standmixern können durch die Funktion  $K$  beschrieben werden.

$$K(x) = 0,04 \cdot x^3 - 2,4 \cdot x^2 + 63 \cdot x + 940$$

$x$  ... Produktionsmenge in ME

$K(x)$  ... Kosten bei der Produktionsmenge  $x$  in GE

- 1) Überprüfen Sie nachweislich, ob der Kostenverlauf bei einer Produktion von 25 ME progressiv oder degressiv ist. [1 Punkt]
- 2) Kreuzen Sie diejenige Gleichung an, deren Lösung das Betriebsoptimum ist. [1 aus 5] [1 Punkt]

$0 = 0,04 \cdot x^3 - 2,4 \cdot x^2 + 63 \cdot x + 940$	<input type="checkbox"/>
$0 = 0,12 \cdot x^2 - 4,8 \cdot x + 63$	<input type="checkbox"/>
$0 = 0,24 \cdot x - 4,8$	<input type="checkbox"/>
$0 = 0,04 \cdot x^2 - 2,4 \cdot x + 63 + \frac{940}{x}$	<input type="checkbox"/>
$0 = 0,08 \cdot x - 2,4 - \frac{940}{x^2}$	<input type="checkbox"/>